



Hoeveel? Maak eerst groepjes van 10.

naam:




..... tientallen en eenheden à



..... tientallen en eenheden à



..... tientallen en eenheden à



..... tientallen en eenheden à



..... tientallen en eenheden à



..... tientallen en eenheden à



..... tientallen en eenheden à



..... tientallen en eenheden à

Tel op en maak keersommen.

naam:



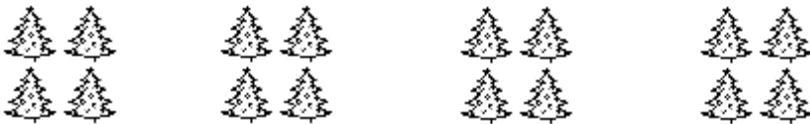
..... + + + + =

..... x =



..... + + =

..... x =



..... + + + =

..... x =



..... + + + + + + =

..... x =



..... + + + + + + =

..... x =